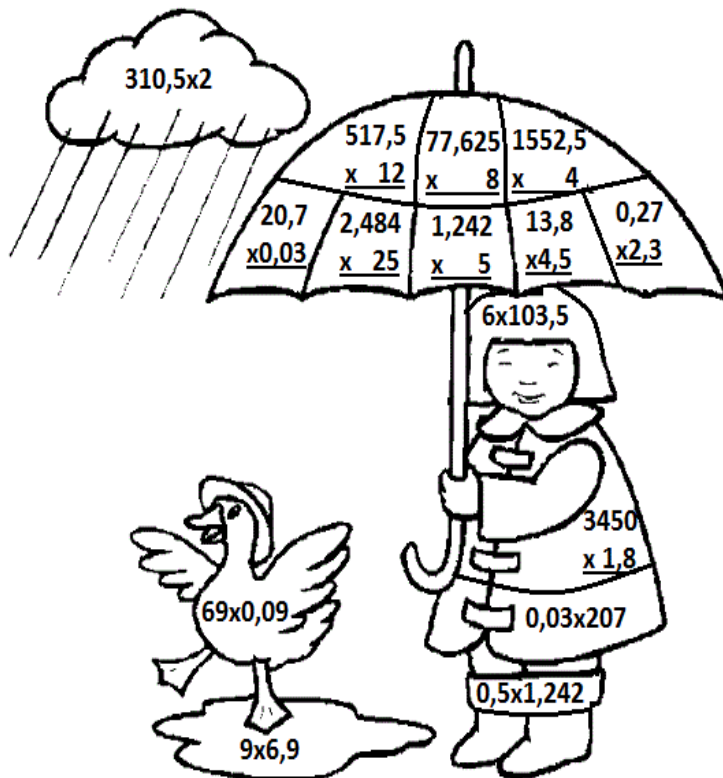


1) Vypočítej příklady a vybarvi obrázek podle klíče



Klíč:

- 0,621 zelená
- 6,210 oranžová
- 62,10 modrá
- 621,0 šedá
- 6210 červená

2) Napiš pod sebe a vynásob daná čísla.

$31,3 \cdot 4,8 =$

$15,09 \cdot 4,2 =$

$0,58 \cdot 12,7 =$

$0,705 \cdot 9,6 =$

1) Vypočti, výsledek použij v dalším příkladu:

$2,7 \cdot 0,1 = \square$

$0,6 \cdot 0,3 = \square$

$\square \cdot 3 = \square$

$\square \cdot 2,5 = \square$

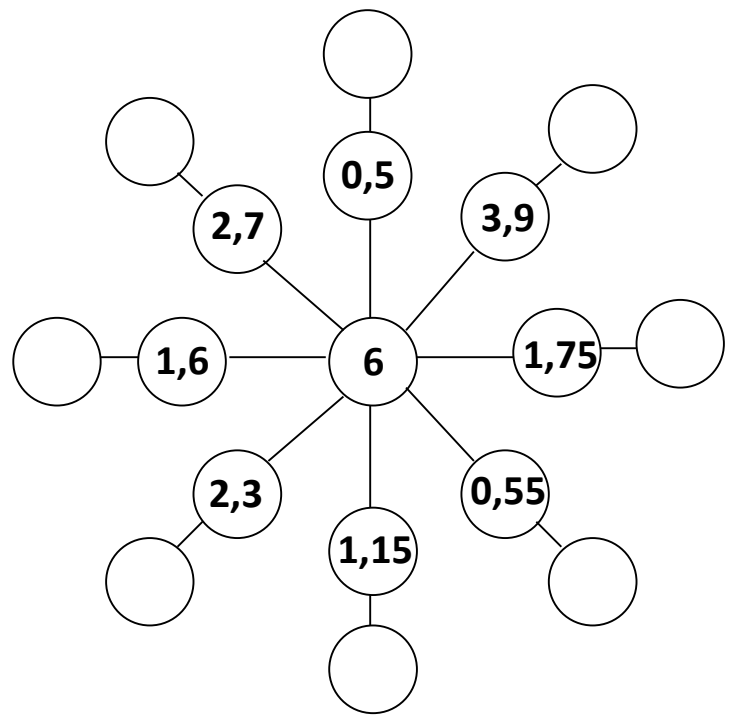
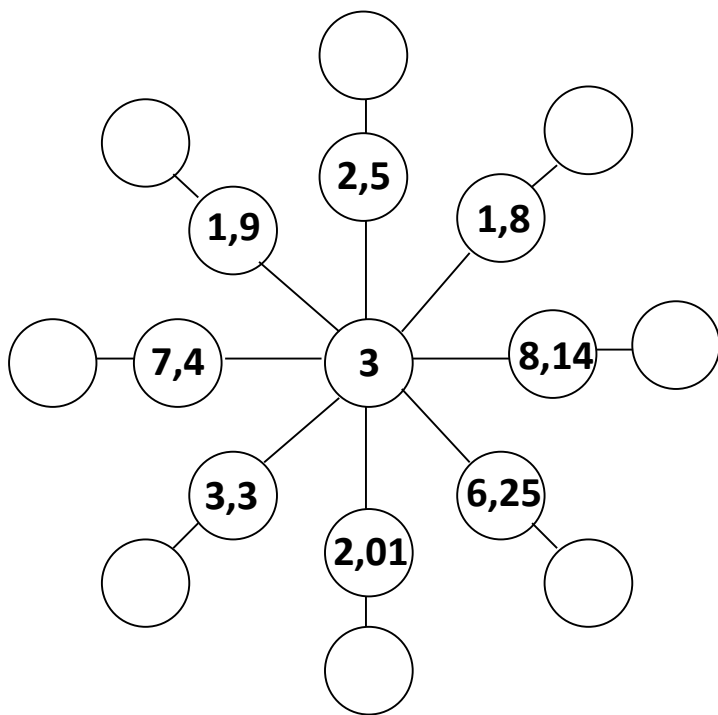
$\square \cdot 10 = \square$

$\square \cdot 10 = \square$

$\square \cdot 0,5 = \square$

$\square \cdot 0,3 = \square$

3) Číslem uvnitř kruhu vynásob čísla po obvodu.



4) **Zápis, výpočet, rovnice, odpověď.**

Krausovi si chtějí koupit nové lino do pokoje o rozměrech 3,5 m a 2,8 m. Kolik m² lina musí koupit? Kolik Kč zaplatí, jestliže 1 m² lina, které si vybrali, stojí 189 Kč?