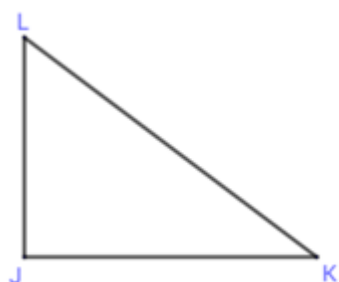
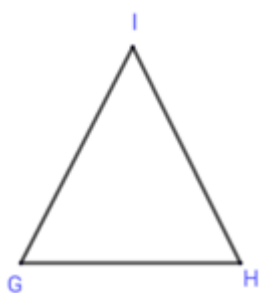
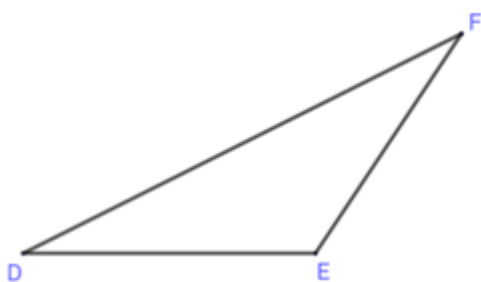
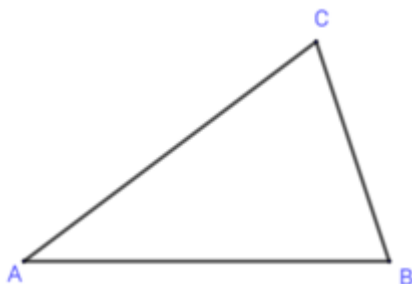


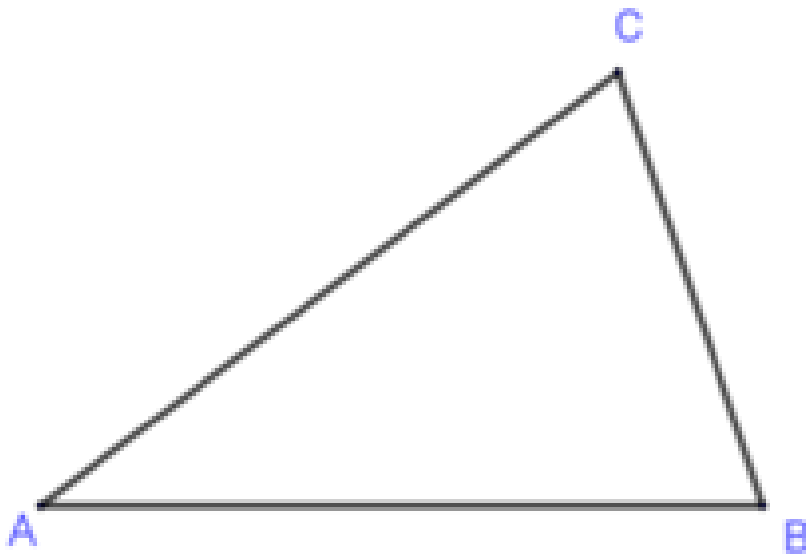
Pracovní list 6

strana A

1) V zadaných trojúhelnících sestroj osy stran, vyznač jejich průsečík a sestroj kružnici opsanou. O jaké trojúhelníky se jedná? Kde leží středy kružnic?



2) V zadaných trojúhelnících sestroj osy úhlů, vyznač jejich průsečík a sestroj kružnici vepsanou.



3) Jaký je poloměr největší možné kružnice vystřižené z trojúhelníku barevného papíru o rozměrech 7,5 cm, 6 cm a 5 cm?