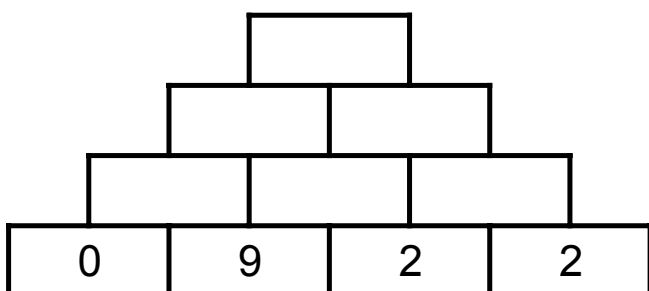
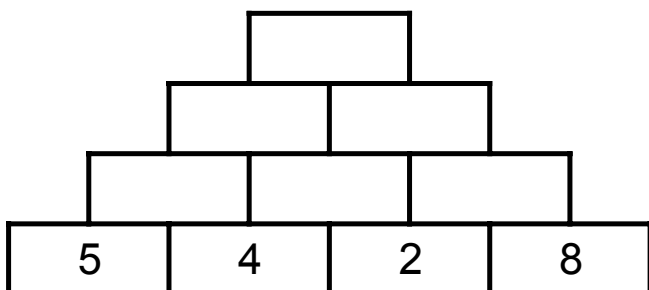
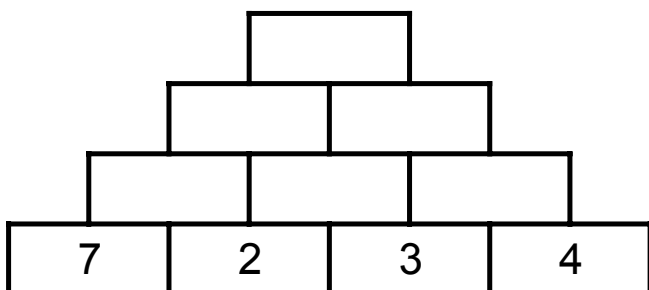
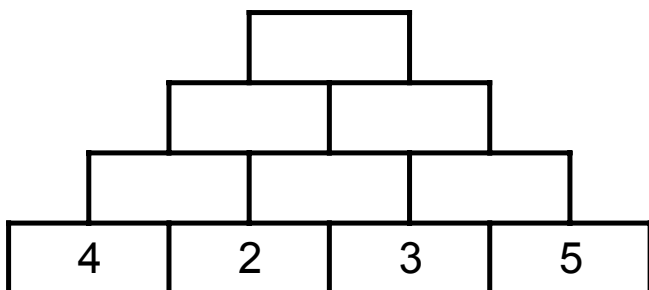


Pyramidy

Násobení

Každé vyšší políčko je násobkem dvou políček pod ním. Doplň prázdná políčka a dopočítej se k vrcholu pyramidy.



Dělení a násobení

Každé vyšší políčko je násobkem dvou políček pod ním. Dělením a v některých případech také násobením doplň prázdná políčka.

