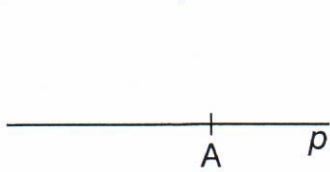
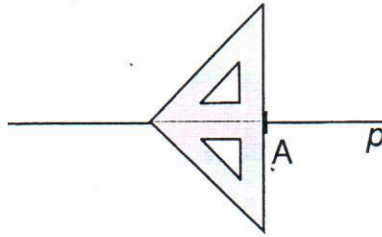


RÝSOVÁNÍ KOLMIC, KTERÉ PROCHÁZEJÍ DANÝM BODEM

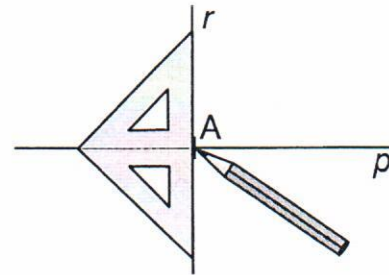
1. Narýsuj přímku p . Vyznač na ní bod A . Dále narýsuj přímku r , která prochází bodem A a je kolmá k přímce p . Postupuj podle obrázků.



① Narýsujeme přímku p , na ní zvolíme bod A .



② Trojúhelník přiložíme k přímce p tak, aby se ryska kryla s přímkou p a nejdelší strana trojúhelníku procházela bodem A .



③ Podle nejdelší strany trojúhelníku narýsujeme přímku r .

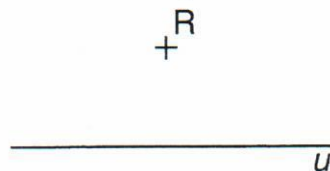
Přímka r prochází bodem A a je kolmá k přímce p . Zapisujeme $r \perp p$.
Říkáme také, že jsme bodem A vedli kolmici r k přímce p .

2. Narýsuj přímku t . Na ní vyznač dva různé body M a N . Narýsuj přímku m , která prochází bodem M a je kolmá k přímce t . Narýsuj přímku n , která prochází bodem N a je kolmá k přímce t .

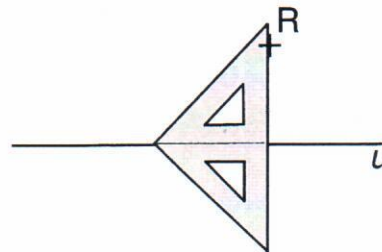
Zapiš vzájemnou polohu přímek m a n : $m _ n$.

Všimni si: $m \perp t$, $n \perp t$, $m \parallel n$.

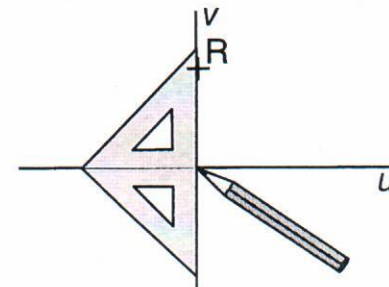
3. Narýsuj přímku u a bod R , který na přímce u neleží. Sestroj přímku v , která prochází bodem R a je kolmá k přímce u .



① Narýsujeme přímku u a bod R , který na ní neleží.



② Trojúhelník umístíme tak, aby se ryska kryla s přímkou u a nejdelší strana trojúhelníku procházela bodem R .



③ Podle nejdelší strany trojúhelníku narýsujeme přímku v .

Přímka v prochází bodem R a je kolmá k přímce u . Zapisujeme $v \perp u$.
Bodem R jsme vedli kolmici v k přímce u .

4. Narýsuj libovolnou přímku a . Vyznač body A , B , které na přímce a neleží. Sestroj přímky c , d , které procházejí zvolenými body A , B a jsou kolmé k přímce a .

5. Sestroj dvě různoběžné přímky u , v . Vyznač bod P , který neleží na žádné z přímek u , v . Sestroj přímku a , která prochází bodem P a je kolmá k přímce u . Dále sestroj přímku b , která prochází bodem P a je kolmá k přímce v .