

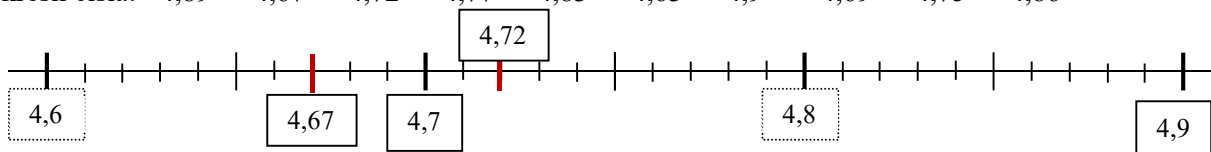
Číselná osa

1) Zakreslete čísla do číselné osy:

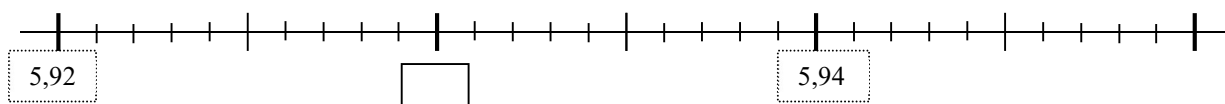
Zakresli čísla: 12,4 14,1 13,8 14,9 12,1 13,5 12,6 13,7 14,4 15



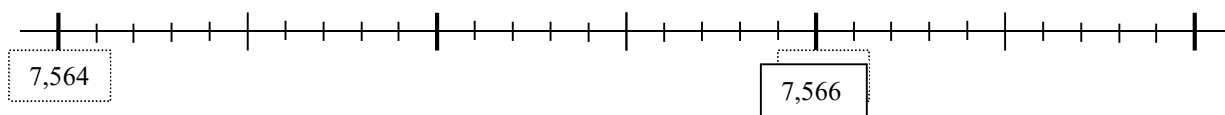
Zakresli čísla: 4,89 4,67 4,72 4,77 4,83 4,63 4,9 4,69 4,75 4,86



Zakresli čísla: 5,924 5,938 5,946 5,921 5,934 5,945 5,944 5,95 5,928 5,931



Zakresli čísla: 7,5642 7,5654 7,5668 7,5644 7,5662 7,5668 7,5648 7,5662 7,5646
7,567



2) Zaokrouhľujte s přesností na:

jednotky

$$73,09 \doteq$$

$$2,64 \doteq$$

$$5,8 \doteq$$

$$49,6 \doteq$$

$$173,385 \doteq$$

$$64,633 \doteq$$

$$55,47 \doteq$$

$$58,1 \doteq$$

desetiny

$$12,437 \doteq$$

$$5,872 \doteq$$

$$3,69 \doteq$$

$$9,84 \doteq$$

$$92,953 \doteq$$

$$15,712 \doteq$$

$$32,95 \doteq$$

$$17,44 \doteq$$

setiny

$$26,507 \doteq$$

$$8,495 \doteq$$

$$1,298 \doteq$$

$$15,804 \doteq$$

$$206,117 \doteq$$

$$58,222 \doteq$$

$$41,278 \doteq$$

$$315,500 \doteq$$