


**1** Najdi chyby v textu a oprav je. Celkový počet chyb, které najdeš, je stejný jako údajný počet Sámových manželů.

Slovane žijící na našem území byli ohrožováni kočovnými Franky, kteří sídlili v oblasti dnešního Polska. V roce 623 se Slované pod vedením avarského kupce Sámata spojili a povstali proti správcům Avarů, nad nimiž se jim nepovedlo zvítězit. Slované pod Sámovým vedením pak vytvořili celek, kterému se říká kmenové císařství. Vznik Sámovy říše znepokojil také frankckého panovníka Chlodvika a ten hledal záminku, proč na Slováky nezaútočit. Nakonec tuto záminku našel a došlo k bitvě u Wogastisfeldu, kde byl Sámata poražen. Jedinou písemnou zmínku o Sámově říši najdeme v kronice avarského kronikáře Dagoberta.



**2** Seřad' události, jak šly po sobě. V tajence vyjde jméno, kterým byli nazýváni Slované ve Fredegarově kronice.

<b>N</b> Slované si volí Sámata za svého vůdce	<b>E</b> porážka Avarů roku 623	<b>E</b> rozpad Sámova kmenového svazu	<b>V</b> nájezdy Avarů na slovanské území
<b>O</b> porážka Dagoberta u Wogastisfeldu	<b>V</b> Sámova smrt	<b>E</b> napadení frankckých kupců na území Sámovy říše	<b>D</b> válka s Frankou říší



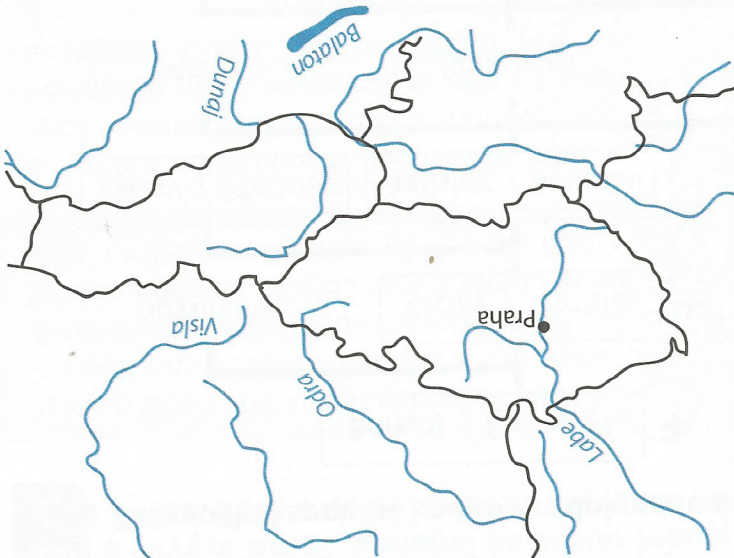
Fredegar nazýval Slováky .....

**3** Dopiš do druhého řádku jména velkomoravských knížat a do kroužků k událostem vepiš číslo knižete, za jehož vlády se odehrály.

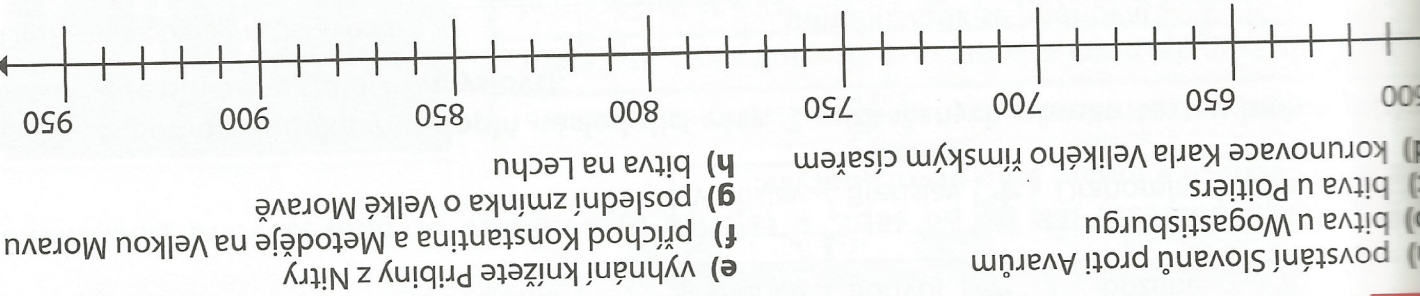
1. historicky známý kníže (asi 830 – 846)	2. kníže (846 – 870)	3. kníže (870 – 894)	4. kníže (894 – 906)
<input type="checkbox"/> příchod Konstantina a Metoděje	<input type="checkbox"/> platil mírový poplatek frankckému panovníkovi	<input type="checkbox"/> vyhnání knižete Pribiny z Nitry	<input type="checkbox"/> křest Borivoje a Ludmily
<input type="checkbox"/> nájezdy kočovných Madarů	<input type="checkbox"/> největší územní rozsah Velké Moravy	<input type="checkbox"/> válka s Franky	

7 Zakresli do mapy přibližný rozsah Velkomoravské říše za vlády Svato-  
píluka a vyznač, kde se nacházela hra-  
diště Mikulčice a Staré Město u Uher-  
ského Hradiště.

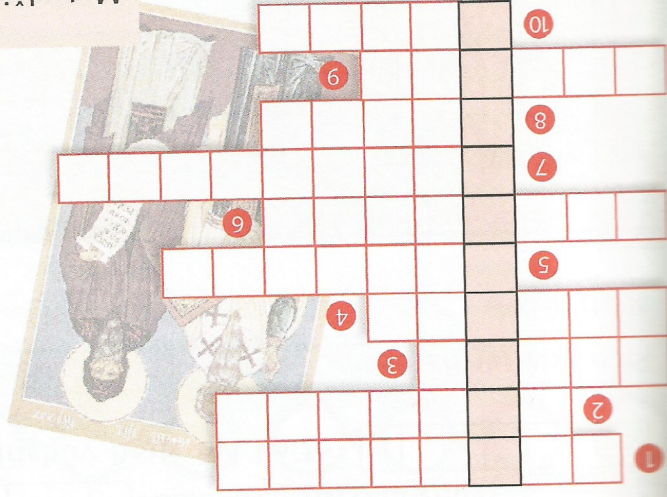
8 Podle mapy napiš, do kterých dnešních  
států Velká Morava zasahovala.



9 Vyznač na časové ose.



10 Využij doplnovačku. V tajence najdeš odpověď na otázku, jakou funkci zastával Metoděj na Velké Moravě a v Panonii.



1. Sídlo velkomoravských knížat se nazývalo...  
2. Nitranský kníže se jmenoval...  
3. Nakonec je název ozdoby, která byla připravena na... opasku.  
4. Jazyk, v němž kazali frančtí kněží, byla...  
5. Český kníže, který přijal křest na dvoře knížete Svatopluka z rukou Metoděje, se jmenoval...  
6. Věrovest se označuje také jako...  
7. Po smrti Metoděje byla zakázána... bohoslužba.  
8. Velkomoravský panovník měl titul...  
9. Z hlaholice vznikla postupným vývojem...  
10. Hlava katolické církve se nazývá...

Metoděj byl velkomoravský a panonský.....

11 Utvoř z dvojic věty.

Největší rozkvet zazila Velká Morava ...  
Velká Morava se stala ...  
Na Velkou Moravu se dovážely ...  
Z Velké Moravy se vyvážely ...  
Velmi ceněné byly výrobky ...

... látky, sůl a koření.  
... za vlády knížete Svatopluka.  
... důležitou obchodní křižovatkou.  
... uměleckého řemesla, především šperky.  
... kožešiny, kůže, vosk a stříbro.